

## Đề Thi Học Kỳ 2 Môn Toán Lớp 2

### Đề 1:

**Bài 1:** Số liền sau của số 499 là:

A. 497

B. 498

C. 500

**Bài 2:** Điền dấu

>
<
=

457 ..... 467

650.....650

299..... 399

401..... 397

**Bài 3:** Giá trị của biểu thức  $20 : 2 - 5$  là:

A. 7

B. 4

C. 5

**Bài 4:** Giá trị của  $x$  trong biểu thức  $x \times 3 = 12$  là:

A. 6

B. 4

C. 5

**Bài 5:** Đặt tính rồi tính

738 + 241

846 – 734

48 + 37

92 – 19

.....

.....

.....

.....

.....

.....

.....

.....

.....

.....

.....

.....

**Bài 6:** Điền số thích hợp vào chỗ chấm

1m = .....dm

100cm = .....m

1m = .....cm

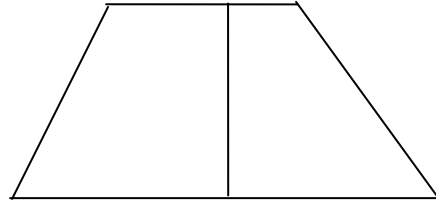
10dm = .....m

**Bài 7:** Số hình tứ giác trong hình bên là:

A. 1

B. 3

C. 4



**Bài 8:** Tính chu vi hình tam giác ABC biết độ dài các cạnh là:

$$AB = 20\text{cm.}$$

$$BC = 30\text{ cm.}$$

$$CA = 40\text{cm}$$

.....

.....

.....

.....

**Bài 9:** Đội một trồng được 350 cây, đội hai trồng được nhiều hơn đội một 120 cây. Hỏi đội hai trồng được bao nhiêu cây ?

.....

.....

.....

.....

**Đề 2:**

**I/ Phần trắc nghiệm:** (6 điểm) Khoanh tròn vào chữ cái có câu trả lời đúng nhất:

**Câu 1:** (1 điểm) Số lớn nhất trong các số: 989; 199; 879; 950 là:

- A. 989                      B. 199                      C. 879                      D. 950

**Câu 2:** (1 điểm) Kết quả của phép tính:  $243 + 716 = ?$

- A. 969                      B. 959                      C. 559.                      D. 569

**Câu 3:** (1 điểm) Số bị chia và số chia lần lượt là 36 và 4. Vậy thương là:

- A. 40                      B. 32                      C. 9                      D. 8

**Câu 4:** (1 điểm) Số liền sau của số lớn nhất có ba chữ số là:

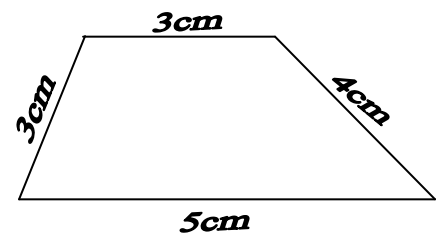
- A. 100                      B. 111                      C. 999                      D. 1000

**Câu 5:** (1 điểm)  $1\text{km} = \dots\text{m}$ ?

- A. 10m                      B. 20m                      C. 100m                      D. 1000m

**Câu 6:** (1 điểm) Hình tứ giác bên có chu vi là:

- A. 15cm                      B. 10cm  
C. 11cm                      D. 12cm



**II/ Phần tự luận:** (4 điểm)

**Câu 7:** (2 điểm) Đặt tính rồi tính:

$532 + 245$	$351 + 46$	$972 - 430$	$589 - 35$
-------------	------------	-------------	------------

.....	.....	.....	.....
.....	.....	.....	.....
.....	.....	.....	.....

**Câu 8:** (2 điểm). Lớp em có 32 bạn, cô giáo chia đều thành 4 tổ. Hỏi mỗi tổ có bao nhiêu bạn?

**Bài giải**

---

.....

.....

.....

---

## HƯỚNG DẪN CHẤM BÀI

**I/ Phần trắc nghiệm:** (6 điểm) Khoanh tròn vào chữ cái có câu trả lời đúng nhất:

**Câu 1:** (1 điểm) Số lớn nhất trong các số: 989 ; 199 ; 879 ; 950 là:

A. 989

**Câu 2:** (1 điểm) Kết quả của phép tính:  $243 + 716 = ?$

B. 959

**Câu 3:** (1 điểm) Số bị chia và số chia lần lượt là 36 và 4. Vậy thương là:

C. 9

**Câu 4:** (1 điểm) Số liền sau của số lớn nhất có ba chữ số là:

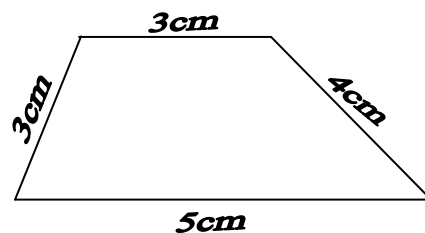
D. 1000

**Câu 5:** (1 điểm)  $1\text{km} = \dots\text{m}?$

D. 1000m

**Câu 6:** (1 điểm) Hình tứ giác bên có chu vi là:

A. 15cm



**II/ Phần tự luận:** (4 điểm)

**Câu 7:** (2 điểm) Đặt tính rồi tính:

$$532 + 245$$

$$\begin{array}{r} + \quad 532 \\ \quad 245 \\ \hline \end{array}$$

(0.5đ)

$$351 + 46$$

$$\begin{array}{r} + \quad 351 \\ \quad \quad 46 \\ \hline \end{array}$$

(0.5đ)

$$972 - 430$$

$$\begin{array}{r} - \quad 972 \\ \quad 430 \\ \hline \end{array}$$

(0.5đ)

$$589 - 35$$

$$\begin{array}{r} - \quad 589 \\ \quad \quad 35 \\ \hline \end{array}$$

(0.5đ)

**Câu 8:** (2 điểm). Lớp em có 32 bạn, cô giáo chia đều thành 4 tổ. Hỏi mỗi tổ có bao nhiêu bạn?

**Bài giải**

Số bạn mỗi tổ có là: (0,5đ)

$$32 : 4 = 8 \text{ (bạn)} \quad (1đ)$$

**Đáp số:** 8 bạn (0.5đ)