

BỘ ĐỀ THI HỌC KÌ 2 MÔN TOÁN LỚP 2

ĐỀ SỐ 1

Bài 1: Cho các số 3, 6, 9, và dấu phép tính (+ ; -) hãy lập các phép tính đúng?

Bài 2: Điền số thích hợp vào chỗ chấm:

$$\begin{aligned} \dots\dots\dots + 3 &= 10 & 7 - \dots\dots &= 4 + 3 & \dots\dots + \dots\dots &= 12 - \dots\dots - \\ \dots\dots &= 0 \end{aligned}$$

Bài 3: An cho Huy ba hòn bi. Lúc này cả hai bạn đều có 5 hòn bi. Hỏi trước khi An cho Huy:

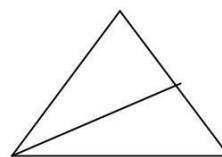
a) Mỗi bạn có mấy hòn bi?

B) An hơn Huy mấy hòn bi?

Bài 4:

Trong hình bên có:

- a) Mấy hình tam giác?
- b) Mấy đoạn thẳng?



ĐỀ 2

Bài 1: Tìm một số, biết rằng lấy số đó trừ đi 1 rồi trừ tiếp đi 3 thì được kết quả là 5.

Bài 2: Tuấn có 4 quả bóng vừa bóng xanh vừa bóng đỏ. Số bóng đỏ nhiều hơn số bóng xanh. Hỏi Tuấn có mấy quả bóng xanh? Mấy quả bóng đỏ? **Bài 3:** Điền số thích hợp vào chỗ chấm:

$$10 + 3 < \dots\dots < 17$$

$$8 + \dots\dots < 10 - \dots\dots$$

Bài 4: Tính nhanh:

a) $10 - 9 + 8 - 7 + 6 - 5 + 4 - 3 + 2 - 1$

b) $1 + 3 + 5 + 7 + 9 + 10 + 8 + 6 + 4 + 2 + 0.$

ĐỀ 3

Bài 1: Viết tất cả các số có hai chữ số mà tổng hai chữ số của nó bằng số nhỏ nhất có hai chữ số.


Bài 2: Viết đủ các số hạng trong tổng sau rồi tính kết quả của tổng đó:

$$2 + 4 + 6 + \dots\dots + 14 + 16 + 18.$$

Bài 3: Hoa, Hồng, Huệ cùng gấp thuyền được cả thảy 27 chiếc. Số thuyền của Hoa và Hồng cộng lại được 17 chiếc. Số thuyền của Hồng và Huệ cộng lại được 19 chiếc. Hỏi mỗi người gấp được mấy chiếc thuyền?

Bài 4:

- a) 10 que diêm xếp ở hình bên tạo thành mấy ô vuông?
b) Em hãy xếp lại vị trí hai 2 diêm để được 3 hình vuông?



Đề 4

Bài 1: Từ ba chữ số 1; 3; 5 em hãy viết tất cả các số có hai chữ số khác nhau mà mỗi số đó đều lớn hơn 30.

Bài 2: Điền số thích hợp vào dấu *

$$\begin{array}{r} *2 \\ + 1* \\ \hline 81 \end{array}$$

$$\begin{array}{r} 2* \\ + *5 \\ \hline 43 \end{array}$$

$$\begin{array}{r} 70 \\ + ** \\ \hline 24 \end{array}$$

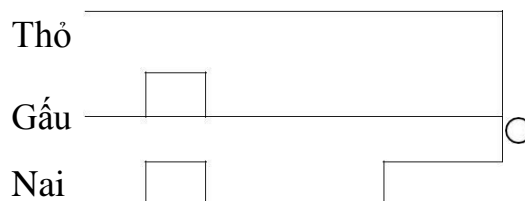
$$\begin{array}{r} 82 \\ + *4 \\ \hline 4* \end{array}$$

$$\begin{array}{r} *8 \\ + 7* \\ \hline *9 \end{array}$$

Bài 3: Mai có 28 bông hoa, Mai cho Hoà 8 bông hoa, Hoà lại cho Hồng 5 bông hoa. Lúc này ba bạn đều có số bông hoa bằng nhau. Hỏi lúc đầu Hoà và Hồng mỗi bạn có bao nhiêu bông?

Bài 4:

Thỏ, Gấu và Nai cùng đi tới chỗ có bông hoa. Ba bạn đi ba đường khác nhau. Hỏi bạn nào phải đi quãng đường dài nhất?



Đề 5

Bài 1: Nối phép tính với kết quả đúng:

$$135 + 17$$

$$851$$

$$253 + 3 - 10$$

$$152$$

$$105 + 18 + 16$$

$$246$$

$$812 + 39$$

$$139$$

$$170 - 6 + 18$$

$$182$$

Bài 2: Bạn Mai có 1 tá bút chì. Mai có ít hơn Hùng 2 cái. Bình có số bút chì nhiều hơn Mai nhưng lại ít hơn Hùng. Hỏi cả ba bạn có tất cả bao nhiêu cái bút chì?

Bài 3: Có bao nhiêu cách sắp xếp ba bạn: Huy, Hiếu, Hưng vào một bàn sao cho bạn Hưng lúc nào cũng ngồi ở đầu bàn?

Bài 4: Biết 2 con thỏ nặng bằng 3 con vịt. Mỗi con vịt cân nặng 2kg. Hỏi hai con vịt nặng hơn một con thỏ bao nhiêu kg?

