

ĐỀ SỐ 1:

Bài 1: (2 điểm)

- Với 3 chữ số 4, 0, 6. Viết tất cả các số có 2 chữ số.

.....

.....

- Viết tất cả các số có 2 chữ số mà chữ số hàng chục kém chữ số hàng đơn vị là 2.

.....

.....

Bài 2:

a) Điền dấu + ; - vào ô vuông (2 điểm)

$$90 \square 80 \square 30 \square 40 \square 20 = 100$$

$$16 \square 24 \square 20 = 20$$

b) Tính nhanh

$$11 + 28 + 24 + 16 + 12 + 9$$

$$27 + 45 - 27 - 45$$

Bài 3: (3 điểm)

Tìm 1 số biết rằng số đó cộng với 28 rồi cộng với 17 thì được kết quả là 82

.....

.....

.....

.....

Bài 4: (2 điểm)

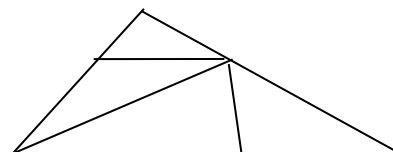
Điền số thích hợp vào ☐ sao cho tổng số ở 3 ô liên nhau = 49

		25		8								
--	--	----	--	---	--	--	--	--	--	--	--	--

Bài 5: Hình bên có (1 điểm)

☐ hình tam giác

☐ hình tứ giác



ĐỀ SỐ 2:

Bài 1: (4đ) a). Viết các số có 2 chữ số mà chữ số hàng đơn vị là 4:

.....

b) Tính tổng của số lớn nhất và số bé nhất trong các số vừa viết:

.....

c) Viết tiếp 3 số vào dãy:

19, 16, 13,,,

Bài 2: (4đ)

a) Số bé nhất có 3 chữ số khác nhau là:

b) Điền số thích hợp vào ô trống:

$$\square 6 + \square = 25$$

$$80 - \square = 56 - \square$$

$$9\square + \square = 92$$

Bài 3: (3đ)

a. Em học bài lúc 7 giờ tối. Lúc đó làgiờ trong ngày.

b. Một tháng nào đó có ngày chủ nhật là 17. Vậy ngày chủ nhật đầu tiên của tháng đó là ngày.....

Bài 4: (3đ): An và Bình chia nhau 18 nhãn vở. An lấy số nhãn vở nhiều hơn Bình và số nhãn vở của An nhỏ hơn 11.

Vậy An đã lấy nhãn vở

Bình đã lấy nhãn vở

Bài 5: (4đ): Lan và Hà đi câu cá. Lan câu được số cá bằng số liền sau số bé nhất có 1 chữ số. Tổng số cá của hai bạn là số lớn nhất có 1 chữ số. Hỏi mỗi bạn câu được mấy con cá?

.....

.....

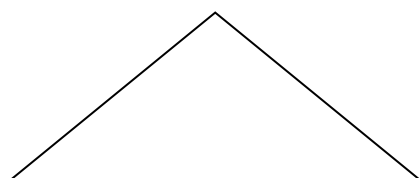
.....

.....

.....

.....

Bài 6: (2đ) Kẻ thêm 3 đoạn thẳng để hình vẽ có thêm 4 hình tam giác.



ĐỀ SỐ 3:

Bài 1 :

1, Viết tất cả các số có hai chữ số mà hiệu hai chữ số là:.....

.....

2, Viết các số có hai chữ số khác nhau sao cho tổng hai chữ số bằng 8 :

.....

3, Tìm 2 số có tích bằng 12 và số bé bằng $\frac{1}{3}$ số lớn :

Hai số đó là :

Bài 2 :

1, Điền số thích hợp vào ô trống :

9	11	14	18				44	
---	----	----	----	--	--	--	----	--

2, Tìm x biết :

$$38 < x + 31 - 6 < 44 .$$

$$x =$$

3, Điền số thích hợp vào ô trống :

$$\square - 2 - 3 \square = 17 \quad ; \quad 32 - 1 \square < 52 - 38 .$$

Bài 3 :

1, Đôi thỏ nhà Thu đẻ được 5 con. Vậy chuồng thỏ nhà Thu có \square đôi tai thỏ,

\square chân thỏ .

2, Mai có 1 tá bút chì, Mai có ít hơn Lan 2 cái. Nga có nhiều hơn Mai nhưng ít hơn Lan. Hỏi ba bạn có bao nhiêu bút chì ?

Tóm tắt

Bài giải

.....
.....

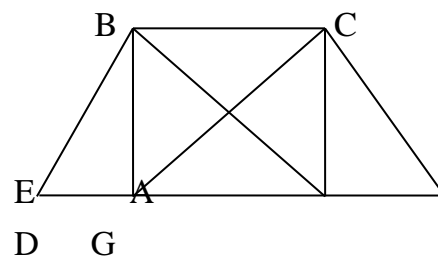
.....
.....
.....
.....
.....

Bài 4 :

Hình vẽ bên có :

☐ hình tam giác.

☐ hình tứ giác.



Tên các hình tứ giác là :

ĐỀ SỐ 4:

Bài 1: (5Đ) a, Viết tiếp 3 số vào dãy số sau:

3, 6, 9, 12.....,.....,.....,

40, 36, 32, 28.....,.....,.....,

b, Điền số vào ô trống để khi cộng 4 với ô liền nhau bất kỳ đều có kết quả bằng 30.

				5	4		12
--	--	--	--	---	---	--	----

Bài2: (4đ)

a, Viết 10 số lẻ liên tiếp lớn hơn 19 và nhỏ hơn 100.

.....

b, Tính hiệu số cuối và số đầu trong các số vừa viết:

.....

Bài 3: (4đ)

a, Khoanh tròn vào chữ cái (a, b, c) trước câu trả lời đúng.

* $\frac{1}{3}$ Của 21 con gà là:

a, 5 con gà

b, 7 con gà

c, 8 con gà

d, 6 con gà

* $\frac{1}{5}$ Của 45 bông hoa là:

a, 5 bông hoa

b, 6 bông hoa

c, 7 bông hoa

d, 9 bông hoa

b, Thứ sáu tuần này là ngày 20 vậy:

- Thứ sáu tuần trước là ngày:.....

- Thứ sáu tuần sau là ngày:.....

Bài 4: (4đ)

a. Hà có 40 viên bi gồm hai màu xanh và đỏ. Hà cho Tú 14 viên bi xanh thì Hà còn 12 viên bi xanh. Hỏi Hà có bao nhiêu viên bi đỏ?

Tóm tắt:

Bài giải

.....

.....

.....

.....

.....

.....

.....

.....

Bài 5: (3đ)

Hình d^oới đây có:

.....đoạn thẳng

.....hình tam giác

.....hình tứ giác

