

Bài 1 : So sánh hai PS theo hai cách khác nhau:

a) $\frac{3}{4}$ và $\frac{4}{3}$ b) $\frac{11}{8}$ và $\frac{7}{10}$

Bài 2 : Viết các PS sau theo thứ tự từ bé đến lớn. (HS nêu cách tính)

a) $\frac{80}{29}, \frac{13}{29}, \frac{15}{29}, \frac{21}{29}$ b) $\frac{7}{8}, \frac{7}{13}, \frac{7}{10}, \frac{7}{12}$ c) (Dành cho HSKG)

$\frac{1}{4}, \frac{3}{10}, \frac{9}{40}, \frac{3}{8}$

Bài 3: Khối lớp 5 có 80 học sinh, trong đó có $\frac{90}{100}$ số HS thích học toán, có $\frac{70}{100}$ số HS thích học vẽ. Hỏi có bao nhiêu em thích học toán? Bao nhiêu em thích học vẽ?

Toán5- Đề 4

Bài 1 : Chuyển các hỗn số sau thành phân số:

$2\frac{3}{5}; 7\frac{1}{2}; 4\frac{3}{8}; 5\frac{4}{11}; 9\frac{1}{12}; 3\frac{7}{9}$

Bài 2 : Tính:

a) $4\frac{1}{3} + 2\frac{5}{6}$ b) $7 - 2\frac{2}{3}$ c) $2\frac{3}{7} \times 1\frac{3}{4}$ d) $5\frac{1}{3} : 3\frac{1}{5}$

Bài 3: Tìm x

a) $x - 1\frac{3}{5} = 2\frac{1}{10}$ b) $5\frac{1}{7} : x = 4\frac{1}{2}$

Toán5- Đề 5

Bài 1 : Chuyển hỗn số thành phân số rồi tính:

a) $3\frac{1}{2} + 2\frac{1}{5}$ b) $8\frac{1}{3} - 5\frac{1}{2}$ c) $6\frac{1}{7} \times 1\frac{6}{43}$ d) $7\frac{2}{3} : 2\frac{1}{4}$

Bài 2:

a) 5m 4cm =cm
270 cm =dm
720 cm =mcm
b) 5tấn 4yến =kg

$$2\text{ tạ } 7\text{ kg} = \dots\dots\text{kg}$$

$$5\text{ m}^2 54\text{ cm}^2 = \dots\dots\text{cm}^2$$

$$7\text{ m}^2 4\text{ cm}^2 = \dots\dots\text{cm}^2$$

Bài 3 : (HSKG)

Một xe chở ba loại bao tải: xanh, vàng, trắng gồm 1200 cái. Số bao xanh chiếm $\frac{30}{100}$

tổng số bao, số bao trắng chiếm $\frac{40}{100}$ tổng số bao; Hỏi có bao nhiêu cái bao màu vàng?

Bài 4: Tìm x

$$\text{a) } \frac{2}{7} + x = \frac{5}{7}; \quad \text{b) } \frac{7}{13} : x = \frac{14}{39} \quad \text{c) } x \times \frac{3}{5} = \frac{14}{15}; \quad \text{d) } x - \frac{5}{8} = \frac{3}{4}$$

Toán5- Đề 6

Bài 1 : Chuyển phân số thành phân số thập phân:

$$\text{a) } \frac{9}{4} \quad \text{b) } \frac{15}{5} \quad \text{c) } \frac{18}{30} \quad \text{d) } \frac{4}{400}$$

Bài 2: Khoanh vào chữ cái đặt trước câu trả lời đúng:

$$\text{a) chuyển } 4\frac{2}{3} \text{ thành PS ta được: } \quad \text{A. } \frac{8}{3}, \quad \text{B. } \frac{12}{3}, \quad \text{C. } \frac{14}{3}, \quad \text{D. } \frac{3}{14}$$

$$\text{b) } \frac{2}{3} \text{ của } 18 \text{ là: } \quad \text{A. } 6\text{m}; \quad \text{B. } 12\text{m}; \quad \text{C. } 18\text{m}; \quad \text{D. } 27\text{m}$$

Bài 3 : Một tấm lưới hình chữ nhật có chiều dài $\frac{15}{4}$ m, chiều rộng $\frac{2}{3}$ m. Tấm lưới được chia ra thành 5 phần bằng nhau. Tính diện tích mỗi phần?

Bài 4 : (HSKG): Tìm số tự nhiên x khác 0 để: $1 < \frac{x}{5} < \frac{8}{5}$

Toán5- Đề 7

Bài 1 : Tính:

$$\text{a) } \frac{8}{5} + \frac{3}{10} \quad \text{b) } \frac{5}{6} - \frac{2}{9} \quad \text{c) } 3\frac{1}{3} \times 5\frac{1}{4} \quad \text{d) } 2\frac{1}{3} : 1\frac{1}{4}$$

Bài 2: Viết các số đo theo mẫu:

$$5\text{ m } 7\text{ dm} = 5\text{ m} + \frac{7}{10}\text{ m} = 5\frac{7}{10}\text{ m}$$

$$\text{a) } 8\text{ m } 5\text{ dm} \quad \text{b) } 4\text{ m } 75\text{ cm.} \quad \text{c) } 5\text{ kg } 250\text{ g}$$

Bài 3 : So sánh hỗn số:

$$\text{a) } 5\frac{1}{7} \dots\dots 2\frac{6}{7}; \quad \text{b) } 3\frac{2}{7} \dots\dots 3\frac{5}{7} \quad \text{c) } 8\frac{6}{10} \dots\dots 8\frac{3}{5}; \quad \text{d) } 4\frac{7}{12} \dots\dots 5\frac{7}{8}$$

Bài 4 : (HSG)

Người ta hòa $\frac{1}{2}$ lít nước si-rô vào $\frac{7}{4}$ lít nước lọc để pha nho. Rót đều nước nho đó vào các cốc chứa $\frac{1}{4}$ lít. Hỏi rót được mấy cốc nước nho?

Toán5- Đề 8

Bài 1: Hai thùng dầu có 168 lít dầu . Tìm số dầu mỗi thùng biết thùng thứ nhất có nhiều hơn thùng thứ hai là 14 lít.

Bài 2: Có hai túi bi . Túi thứ nhất có số bi bằng $\frac{3}{5}$ số bi túi thứ hai và kém túi thứ hai là 26 viên bi . Tìm số bi ở mỗi túi ?

Bài 3 : (HSG)

Chu vi của một hình chữ nhật là 56 cm, chiều rộng bằng $\frac{1}{3}$ chiều dài. Tìm diện tích hình chữ nhật đó ?

Toán5- Đề 9

Bài 1: Mua 20 cái bút chì hết 16000 đồng . Hỏi mua 21 cái bút chì như vậy hết bao nhiêu tiền ?

Bài 2: Có một nhóm thợ làm đường , nếu muốn làm xong trong 6 ngày thì cần 27 công nhân . Nếu muốn xong trong 3 ngày thì cần bao nhiêu công nhân?

Bài 3 : Cứ 10 công nhân trong một ngày sửa được 37 m đường . Với năng suất như vậy thì 20 công nhân làm trong một ngày sẽ sửa được bao nhiêu m đường?

Bài 4 : (HSG)

Có một số quyển sách, nếu đóng vào mỗi thùng 24 quyển thì cần 9 thùng. Nếu đóng số sách đó vào mỗi thùng 18 quyển thì cần bao nhiêu thùng?

Toán5- Đề 10

Bài 1: Lan mua 4 hộp bút màu hết 16000 đồng . Hỏi Hải mua 8 hộp bút như vậy hết bao nhiêu tiền ?

Bài 2: Bà An mua 7 hộp thịt hết 35000 đồng . Bà Bình mua nhiều hơn bà An là 4 hộp thịt thì phải trả bao nhiêu tiền ?

Bài 3 : (HSKG)

Mẹ mua 9 quả cam, mỗi quả 800 đồng . Nếu mua mỗi quả với giá rẻ hơn 200 đồng thì số tiền đó đủ mua bao nhiêu quả ?

Toán5- Đề 11

Bài 1: Cửa hàng mua 1 tá bút chì hết số tiền là 18 000 đồng. Bạn Hằng mua 7 cái bút chì cùng loại hết bao nhiêu tiền?

Bài 2: Một người làm trong 2 ngày được trả 126 000 đồng tiền công. Hỏi với mức trả công như thế, người đó làm trong 3 ngày thì được trả bao nhiêu tiền công?

Bài 3 : (HSKG)

Một phân xưởng làm một số công việc cần 120 người làm trong 20 ngày sẽ xong. Nay có thêm 30 người nữa thì làm trong bao nhiêu ngày sẽ xong?

Toán5- Đề 12

Bài 1: 14 người làm một công việc phải mất 10 ngày mới xong. Nay muốn làm trong 1 tuần thì cần bao nhiêu người làm?

Bài 2: Có 5 máy bơm làm liên tục trong 18 giờ thì hút cạn một hồ nước. Nay muốn hút hết nước trong 10 giờ thì bao nhiêu máy bơm như thế?

Bài 3 : (HSKG)

Cứ 15 công nhân sửa xong một đoạn đường phải hết 6 ngày. Nay muốn sửa xong đoạn đường đó trong 5 ngày thì cần bổ xung thêm bao nhiêu công nhân?

Toán5- Đề 13

Bài 1: Một thúng đựng trứng gà và trứng vịt có tất cả 128 quả. Số trứng gà bằng $\frac{3}{5}$ số trứng vịt. Hỏi trong thúng có bao nhiêu quả trứng gà? Có bao nhiêu quả trứng vịt?

<https://giasudaykem.com.vn/tai-lieu-mon-toan-lop-5.html>

Bài 2: Có một số tiền mua kẹo Trung thu. Nếu mua loại 5000 đồng một gói thì được 18 gói. Hỏi cũng với số tiền đó, nếu mua kẹo loại 7500 đồng một gói thì mua được mấy gói như thế?

Bài 3 : (HSKG)

Theo dự định, một xưởng dệt phải làm trong 15 ngày, mỗi ngày dệt được 300 sản phẩm thì mới hoàn thành kế hoạch. Nay do cải tiến kĩ thuật nên mỗi ngày dệt được 450 sản phẩm. Hỏi xưởng đó làm trong bao nhiêu ngày thì hoàn thành kế hoạch?

Toán5- Đề 14

Bài 1: Điền số thích hợp vào chỗ chấm

a) $4m = \dots km$

b) $5kg = \dots tạ$

c) $3m\ 2cm = \dots hm$

d) $4yến\ 7kg = \dots yến$

Bài 2: Điền số thích hợp vào chỗ chấm:

a) $3km\ 6\ m = \dots m$

b) $4\ tạ\ 9\ yến = \dots kg$

c) $15m\ 6dm = \dots cm$

d) $2yến\ 4hg = \dots hg$

Bài 3: Điền dấu $>$, $<$, $=$ vào chỗ chấm:

a) $3\ yến\ 7kg \dots 307\ kg$

b) $6km\ 5m \dots 60hm\ 50dm$

Bài 4: Một thửa ruộng hình chữ nhật có chu vi là 480m, chiều dài hơn chiều rộng là 4 dam. Tìm diện tích hình chữ nhật.

Toán5- Đề 15

Bài 1: Điền số thích hợp vào chỗ chấm

a) 27yến =kg

b) 380 tạ = ...kg

c) 24 000kg = ...tấn

d) 47350 kg = ...tấn.....kg

Bài 2: Điền số thích hợp vào chỗ chấm:

a) 3kg 6 g= ... g

b) 40 tạ 5 yến = ...kg

c) 15hg 6dag = ...g

d) 62yến 48hg = ... hg

Bài 3: Điền dấu >, <, = vào chỗ chấm:

a) 6 tấn 3 tạ 63tạ

b) 4060 kg4 tấn 6 kg

c) $\frac{1}{2}$ tạ70 kg

Bài 4: (HSKG)

Người ta thu ba thửa ruộng được 2 tấn lúa. Thửa ruộng A thu được 1000 kg, thửa ruộng B thu được $\frac{3}{5}$ thửa ruộng A. Hỏi thửa ruộng C thu được bao nhiêu kg lúa?

Toán5- Đề 16

Bài 1: Điền số thích hợp vào chỗ chấm

- a) $5\text{m}^2\ 38\text{dm}^2 = \dots \text{m}^2$
- b) $23\text{m}^2\ 9\text{dm}^2 = \dots \text{m}^2$
- c) $72\text{dm}^2 = \dots \text{m}^2$
- d) $5\text{dm}^2\ 6\text{cm}^2 = \dots \text{dm}^2$

Bài 2: Điền dấu $>$, $<$, $=$ vào chỗ chấm:

- a) $3\text{m}^2\ 5\text{cm}^2 \dots 305\text{cm}^2$
- b) $6\text{dam}^2\ 15\text{m}^2 \dots 6\text{dam}^2\ 150\text{dm}^2$

Bài 3: (HSKG)

Một thửa ruộng hình chữ nhật có chiều dài là 36dam, chiều rộng bằng $\frac{2}{3}$ chiều dài. Hỏi thửa ruộng có diện tích là bao nhiêu m^2 .

Toán5- Đề 17

Bài 1: Viết số thích hợp vào chỗ chấm :

- a) $6\text{cm}^2 = \dots \text{mm}^2$
 $30\text{km}^2 = \dots \text{hm}^2$
 $8\text{m}^2 = \dots \text{cm}^2$
- b) $200\text{mm}^2 = \dots \text{cm}^2$
 $4000\text{dm}^2 = \dots \text{m}^2$
 $34\ 000\text{hm}^2 = \dots \text{km}^2$
- c) $260\text{cm}^2 = \dots \text{dm}^2 \dots \text{cm}^2$
 $1086\text{m}^2 = \dots \text{dam}^2 \dots \text{m}^2$

Bài 2: Điền dấu $>$; $<$; $=$

- a) $71\text{dam}^2\ 25\text{m}^2 \dots 7125\text{m}^2$
- b) $801\text{cm}^2 \dots 8\text{dm}^2\ 10\text{cm}^2$
- c) $12\text{km}^2\ 60\text{hm}^2 \dots 1206\text{hm}^2$

Bài 3 : Khoanh vào chữ cái đặt trước câu trả lời đúng : $1\text{m}^2\ 25\text{cm}^2 = \dots \text{cm}^2$

- A. 1250
- B. 125
- C. 1025
- D. 10025

Bài 4 : (HSKG)

Để lát một căn phòng, người ta đã dùng vừa hết 200 mảnh gỗ hình chữ nhật có chiều dài 80cm, chiều rộng 20cm. Hỏi căn phòng đó có diện tích là bao nhiêu m^2 ?

Toán5- Đề 18

Bài 1: Viết số thích hợp vào chỗ chấm :

- a) $16ha = \dots dam^2$
 $35000dm^2 = \dots m^2$
 $8m^2 = \dots dam^2$
- b) $2000dam^2 = \dots ha$
 $45dm^2 = \dots m^2$
 $324hm^2 = \dots dam^2$
- c) $260m^2 = \dots dam^2 \dots m^2$
 $2058dm^2 = \dots m^2 \dots dm^2$

Bài 2: Điền dấu $>$; $<$; $=$

- a) $7m^2 \ 28cm^2 \dots 7028cm^2$
- b) $8001dm^2 \dots 8m^2 \ 100dm^2$
- c) $2ha \ 40dam^2 \dots 204dam^2$

Bài 3 : Chọn phương án đúng :

- a) $54km^2 < 540ha$
- b) $72ha > 800 \ 000m^2$
- c) $5m^2 \ 8dm^2 = 5\frac{8}{10}m^2$

Bài 4 : (HSKG)

Để lát một căn phòng, người ta đã dùng vừa hết 200 mảnh gỗ hình chữ nhật có chiều dài 80cm, chiều rộng 20cm. Hỏi căn phòng đó có diện tích là bao nhiêu m^2 ?

Toán5- Đề 19

Bài 1: Tìm trung bình cộng của các số sau

- a) 14, 21, 37, 43, 55
- b) $\frac{1}{3}, \frac{2}{7}, \frac{5}{4}$

Bài 2: Trung bình cộng tuổi của chị và em là 8 tuổi. Tuổi em là 6 tuổi. Tính tuổi chị .

Bài 3: Một đội có 6 chiếc xe, mỗi xe đi 50 km thì chi phí hết 1 200 000 đồng. Nếu đội đó có 10 cái xe, mỗi xe đi 100 km thì chi phí hết bao nhiêu tiền ?

Bài 4: (HSKG)

Hai người thợ nhận được 213000 đồng tiền công. Người thứ nhất làm trong 4 ngày mỗi ngày làm 9 giờ, người thứ 2 làm trong 5 ngày, mỗi ngày làm 7 giờ. Hỏi mỗi người nhận được bao nhiêu tiền công ?

Toán5- Đề 20

Bài 1: Viết thành số thập phân

a) $33\frac{1}{10}$; $\frac{27}{100}$; b) $92\frac{5}{100}$; $\frac{31}{1000}$; c) $3\frac{127}{1000}$; $2\frac{8}{1000}$

Bài 2: Chuyển thành phân số thập phân

a) 0,5; 0,03; 7,5 b) 0,92; 0,006; 8,92

Bài 3: Chuyển thành hỗn số có chứa phân số thập phân.

a) 12,7; 31,03; b) 8,54; 1,069

Bài 4: Viết các số thập phân

- a) Ba phẩy không bảy
- b) Mười chín phẩy tám trăm năm mươi
- c) Không đơn vị năm mươi tám phần trăm

Toán5- Đề 21

Bài 1: Điền dấu >, < ; = vào chỗ

a) 6,17 5,03 c) 58,9 59,8
b) 2,174 3,009 d) 5,06 5,06

Bài 2: Xếp các số sau theo thứ tự từ bé đến lớn

5,126; 5,621; 5,216; 5,061; 5,610

Bài 3: Xếp các số sau theo thứ tự từ bé đến

72,19; 72,099; 72,91; 72,901; 72,009

Bài 4: Tìm chữ số thích hợp điền vào các chữ

a) $4,8x2 < 4,812$
b) $5,890 > 5,8x0$
c, $53,x49 < 53,249$ d) $2,12x = 2,1270$

Bài 5: (HSKG): Tìm 5 chữ số thập phân sao cho mỗi số đều lớn hơn 3,1 và bé hơn 3,2?

Toán5- Đề 22

Bài 1: Viết số đo sau dưới dạng m

a) $3\text{m } 5\text{dm} = \dots\dots\dots$; $29\text{mm} = \dots\dots\dots$

$17\text{m } 24\text{cm} = \dots\dots\dots$; $9\text{mm} = \dots\dots\dots$

b) $8\text{dm} = \dots\dots\dots$; $3\text{m } 5\text{cm} = \dots\dots\dots$

$3\text{cm} = \dots\dots\dots$; $5\text{m } 2\text{mm} = \dots\dots\dots$

Bài 2: : Điền số thích hợp vào chỗ

a) $5,38\text{km} = \dots\text{m}$;


$4\text{m } 56\text{cm} = \dots\text{m}$

$732,61\text{ m} = \dots\text{dam}$;

b) $8\text{hm } 4\text{m} = \dots\text{dam}$

$49,83\text{dm} = \dots\text{ m}$

Bài 3: Một vườn hình chữ nhật được vẽ vào giấy với tỉ lệ xích $\frac{1}{500}$ có kích thước như sau:



Tính diện tích mảnh vườn ra ha?

Bài 4: (HSKG)

Một mảnh vườn hình chữ nhật có chiều dài 60m, chiều rộng $\frac{3}{4}$ chiều dài. Trên đó người ta trồng cà chua, cứ mỗi 10m^2 thu hoạch được 6kg. Tính số cà chua thu hoạch được ra tạ.

Toán5- Đề 23

Bài 1: Viết số đo khối lượng sau dưới dạng kg :

a) $7\text{kg } 18\text{g} = \dots\text{kg}$; $126\text{g} = \dots\text{kg}$;

$5\text{ yến} = \dots\text{kg}$; $14\text{hg} = \dots\text{kg}$;

b) $53\text{kg } 2\text{dag} = \dots\text{kg}$; $297\text{hg} = \dots\text{kg}$;

$43g = \dots kg$; $5hg = \dots kg$.

Bài 2: Điền dấu $>$, $<$ hoặc $=$ vào

a) $4dag \ 26g \dots 426g$

b) $1tạ \ 2kg \dots 1,2tạ$

Bài 3 : Viết đơn vị đo thích hợp vào chỗ chấm

Tên con vật	Đơn vị đo là tấn
Khủng long	60 tấn
Cá voi
Voi
Hà mã
Gấu

Toán5- Đề 24

Bài 1 : Điền số vào chỗ chấm :

a) $2ha \ 4m^2 = \dots ha$;

$49,83dm^2 = \dots m^2$

b) $8m^2 \ 7dm^2 = \dots m^2$;

$249,7cm^2 = \dots m^2$

Bài 2 : Điền dấu $>$; $<$ =

a) $16m^2 \ 213cm^2 \dots 16400cm^2$;

b) $84170cm^2 \dots 84,017m^2$

c) $9,587m^2 \dots 9m^2 \ 60dm^2$

Bài 3 : (HSKG)

Nửa chu vi một khu vườn hình chữ nhật là $0,55km$, chiều rộng bằng $\frac{5}{6}$ chiều dài. Hỏi diện tích khu vườn đó bằng bao nhiêu m vuông ? bao nhiêu ha ?

Toán5- Đề 25

Bài 1: Viết số đo khối lượng sau dưới dạng kg :

- a) $17\text{kg } 28\text{dag} = \dots\text{kg}$; $1206\text{g} = \dots\text{kg}$;
 $5\text{ yến} = \dots\text{tấn}$; $46\text{ hg} = \dots\text{kg}$;
b) $3\text{kg } 84\text{ g} = \dots\text{kg}$; $277\text{hg} = \dots\text{kg}$;
 $43\text{kg} = \dots\text{tạ}$; $56,92\text{hg} = \dots\text{kg}$.

Bài 2: Điền dấu $>$, $<$ hoặc $=$ vào

- a) $5\text{kg } 28\text{g}$ 5280 g
b) $4\text{ tấn } 21\text{ kg}$ 420 yến

Bài 3 : Viết đơn vị đo thích hợp vào chỗ chấm

- a) $7,3\text{ m} = \dots\text{dm}$ $35,56\text{m} = \dots\text{cm}$
 $8,05\text{km} = \dots\text{m}$ $6,38\text{km} = \dots\text{m}$
b) $6,8\text{m}^2 = \dots\text{dm}^2$ $3,14\text{ ha} = \dots\text{m}^2$
 $0,24\text{ ha} = \dots\text{m}^2$ $0,2\text{ km}^2 = \dots\text{ha}$

Bài 4: (HSKG)

Một ô tô chở 80 bao gạo, mỗi bao cân nặng 50 kg.

- a) Hỏi ô tô chở được bao nhiêu tấn gạo?
b) Nếu ô tô đó đã bán bớt đi $\frac{2}{5}$ số gạo đó thì còn lại bao nhiêu tạ gạo ?

Toán5- Đề 26

Bài 1: : Điền số vào chỗ chấm :

- a) $2,35796\text{ km}^2 = \dots\text{km}^2 \dots\text{hm}^2 \dots\text{dam}^2 \dots\text{m}^2$
 $69,805\text{dm}^2 = \dots\text{dm}^2 \dots\text{cm}^2 \dots\text{mm}^2$
b) $4\text{kg } 75\text{g} = \dots\text{ kg}$
 $86000\text{m}^2 = \dots\text{ha}$

Bài 2 : Mua 32 bộ quần áo hết phải trả 1 280 000 đồng. Hỏi mua 16 bộ quần áo như thế phải trả bao nhiêu tiền

Bài 3 : Một máy bay cứ bay 15 phút được 240 km. Hỏi trong 1 giờ máy bay đó bay được bao nhiêu km?

Bài 4 : (HSKG) : Tìm x, biết x là số tự nhiên : $27,64 < x < 30,46$.

Toán5- Đề 27

Bài 1: Đặt tính rồi tính :

- a) $65,72 + 34,8$
- b) $284 + 1,347$
- c) $0,897 + 34,5$
- d) $5,41 + 42,7$

Bài 2: Tìm x

- a) $x - 13,7 = 0,896$
- b) $x - 3,08 = 1,72 + 32,6$

Bài 3 : Thùng thứ nhất có 28,6 lít dầu, thùng thứ hai có 25,4 lít dầu. Thùng thứ ba có số dầu bằng trung bình cộng số dầu ở 2 thùng kia. Hỏi cả 3 thùng có bao nhiêu lít dầu?

Bài tập 4: (HSKG): Cho 2 số có hiệu là 26,4. Số bé là 16. Tìm số lớn

Toán5- Đề 28

Bài tập1: Đặt tính rồi tính :

- a) $70,75 - 45,6$
- b) $86 - 54,26$
- c) $453,8 - 208,47$

Bài tập 2 : Tính bằng 2 cách :

- a) $34,75 - (12,48 + 9,52)$
- b) $45,6 - 24,58 - 8,382$

Bài tập 3: Tìm x :

- a) $5,78 + x = 8,26$
- b) $23,75 - x = 16,042$

Bài tập 4 : (HSKG)

Tổng diện tích của ba vườn cây là 6,3 ha. Diện tích của vườn cây thứ nhất là 2,9 ha, Diện tích của vườn cây thứ hai bé hơn diện tích của vườn cây thứ nhất là $8120m^2$, Hỏi diện tích của vườn cây thứ ba bằng bao nhiêu m^2 ?

Toán5- Đề 29

Bài 1: Đặt tính rồi tính:

- a) $6,372 \times 16$
- b) $0,894 \times 75$
- c) $7,21 \times 93$
- d) $6,5 \times 407$

Bài 2 : Tìm y

- a) $y : 42 = 16 + 17,38$
- b) $y : 17,03 = 60$

Bài 3 : Tính nhanh

a) $3,17 + 3,17 + 3,17 + \dots + 3,17$
(100 số hạng)

b) $0,25 \times 611,7 \times 40$.

Bài 4 : (HSKG)

Có 24 chai xăng, mỗi chai chứa 0,75 lít mỗi lít nặng 800 gam. Hỏi 24 chai đó nặng bao nhiêu kg, biết mỗi vỏ chai nặng 0,25 kg.

Toán5- Đề 30

Bài 1: Đặt tính rồi tính:

a) $65,8 \times 1,47$ b) $54,7 - 37$

c) $5,03 \times 68$ d) $68 + 1,75$

Bài 2 : Mỗi chai nước mắm chứa 1,25 lít. Có 28 chai loại 1, có 57 chai loại 2. Hỏi tất cả có bao nhiêu lít nước mắm?

Bài 3 : Tính nhanh

a) $6,953 \times 3,7 + 6,953 \times 6,2 + 6,953 \times 0,1$

b) $4,79 + 5,84 + 5,21 + 4,16$

Bài 4 : (HSKG)

Chiều rộng của một đám đất hình chữ nhật là 16,5m, chiều rộng bằng $\frac{1}{3}$ chiều dài. Trên thửa ruộng đó người ta trồng cà chua. Hỏi người ta thu hoạch được bao nhiêu tạ cà chua biết mỗi mét vuông thu hoạch được 6,8kg cà chua.

Toán5- Đề 31

Bài 1: Đặt tính rồi tính:

a) $635,38 + 68,92$ b) $45,084 - 32,705$

c) $52,8 \times 6,3$ d) $17,25 \times 4,2$

Bài 2 : Viết số thích hợp vào chỗ chấm :

- a) $2,3041\text{km} = \dots\text{m}$
- b) $32,073\text{km} = \dots\text{dam}$
- c) $0,8904\text{hm} = \dots\text{m}$
- d) $4018,4\text{ dm} = \dots\text{hm}$

Bài 3 : Tính nhanh

- a) $6,04 \times 4 \times 25$
- b) $250 \times 5 \times 0,2$
- c) $0,04 \times 0,1 \times 25$

Bài 4 : (HSKG) : Tìm số tự nhiên x bé nhất trong các số:
2; 3; 4; 5 sao cho: $2,6 \times x > 7$

Toán5- Đề 32

Bài 1: Đặt tính rồi tính:

- a) $7,44 : 6$ b) $47,5 : 25$
- c) $1904 : 8$ d) $20,65 : 35$

Bài 2 : Tìm x :

- a. $x \times 5 = 24,65$ b. $42 \times x = 15,12$

Bài 3 : Tính giá trị biểu thức:

- a) $40,8 : 12 - 2,63$ b) $6,72 : 7 + 24,58$

Bài 4 : (HSKG) : Một cửa hàng bán vải trong 6 ngày bán được 342,3 m vải.

- a) Trung bình mỗi ngày cửa hàng bán được bao nhiêu m vải?
- b) Trong 3 ngày cửa hàng bán được bao nhiêu m vải?

Toán5- Đề 33

Bài 1: Đặt tính rồi tính:

- a) $7,44 : 6$ b) $0,1904 : 8$
- c) $6,48 : 18$ d) $3,927 : 11$

Bài 2: Tính bằng cách thuận tiện:

- a) $70,5 : 45 - 33,6 : 45$ b) $23,45 : 12,5 : 0,8$

Bài 3: Tìm x :

- a) $X \times 5 = 9,5$ b) $21 \times X = 15,12$

Bài 4: (HSKG)

Viết số thích hợp vào chỗ chấm:

$$\begin{array}{r|l} 6,18 & 38 \\ 2\ 38 & \\ \hline 10 & 0,16 \end{array}$$

- Thương là:.....

- Số dư là:.....

Toán5- Đề 34

Bài 1: Đặt tính rồi tính:

a) $8640 : 2,4$ b) $550 : 2,5$

c) $720 : 4,5$ d) $150 : 1,2$

Bài 2: Tìm x:

a) $X \times 4,5 = 144$ b) $15 : X = 0,85 + 0,35$

Bài 3: Tính:

a. $400 + 500 + \frac{8}{100}$

b. $55 + \frac{9}{10} + \frac{6}{100}$

Bài 4: (HSKG)

Một ô tô trong 3 giờ đầu, mỗi giờ chạy được 36km, trong 5 giờ sau, mỗi giờ chạy được 35km. Hỏi trung bình mỗi giờ ô tô đó chạy được bao nhiêu km?

Toán5- Đề 35

Bài 1: Đặt tính rồi tính:

a) $7,2 : 6,4$ b) $28,5 : 2,5$

c) $0,2268 : 0,18$ d) $72 : 6,4$

Bài 2: Tính bằng 2 cách:

a) $2,448 : (0,6 \times 1,7)$ b) $1,989 : 0,65 : 0,75$

Bài 3: Tìm x:

a) $X \times 1,4 = 4,2$ b) $2,8 : X = 2,3 : 57,5$

Bài 4: (HSKG)

Một mảnh đất hình chữ nhật có diện tích $161,5m^2$, chiều rộng là 9,5m. Tính chu vi của khu đất đó?

Toán5- Đề 36

Bài 1: Tìm tỉ số phần trăm của:

a) 0,8 và 1,25;

b) 12,8 và 64

Bài 2: Một lớp có 40 học sinh, trong đó có 40% là HS giỏi. Hỏi lớp có ? HS khá

Bài 3:

Tháng trước đội A trồng được 1400 cây tháng này vượt mức 12% so với tháng trước.

Hỏi tháng này đội A trồng ? cây

Toán5- Đề 37

Bài 1: Tìm tỉ số phần trăm của

a) 8 và 60

b) 6,25 và 25

Bài 2: Một người bán hàng đã bán được 450.000 đồng tiền hàng, trong đó lãi chiếm 12,5% tiền vốn. Tính tiền vốn?

Bài 3: Một đội trồng cây, tháng trước trồng được 800 cây, tháng này trồng được 960 cây. Hỏi so với tháng trước thì tháng này đội đó đã vượt mức bao nhiêu phần trăm ?

Bài 4: Tính tỉ số % của a và b điền số vào chỗ

a	b	%
...	35	40%
27	15%

Toán5- Đề 38

Bài 1: Một xưởng sản xuất đề ra là phải thực hiện được 1200 sản phẩm, do cải tiến kỹ thuật nên họ đã thực hiện được 1620 sản phẩm. Hỏi họ đã vượt mức bao nhiêu phần trăm kế hoạch.

Bài 2: Một người đi bán trứng gồm 2 loại: Trứng gà và trứng vịt. Số trứng gà là 160 quả, chiếm 80% tổng số trứng. Hỏi người đó đem bán ? quả trứng vịt ?

Bài 3: (HSKG)

Lớp 5A có 40 bạn. Cô đã cử 20% số bạn trang trí lớp, 50% số bạn quét sân, số bạn còn lại đi tưới cây. Hỏi mỗi nhóm có bao nhiêu bạn?

Toán5- Đề 39

Bài 1: Đặt tính rồi tính:

- a) $108,36 : 21$ b) $80,8 : 2,5$
c) $109,98 : 84,6$ d) $75 : 125$

Bài 2: Hai người làm được 1200 sản phẩm, trong đó người thứ nhất làm được 546 sản phẩm. Hỏi người thứ hai làm được bao nhiêu phần trăm sản phẩm?

Bài 3: Một cửa hàng đã bán 123,5 lít nước mắm và bằng 9,5 % số nước mắm của cửa hàng trước khi bán. Hỏi lúc đầu, cửa hàng có bao nhiêu lít nước mắm?

Toán5- Đề 40

Bài 1: Tính giá trị biểu thức:

- a) $(75,6 - 21,7) : 4 + 22,82 \times 2$
b) $21,56 : (75,6 - 65,8) - 0,354 : 2$

Bài 2: Khoanh vào chữ cái đặt trước câu trả lời đúng:

Một người bán hàng bỏ ra 80000 đồng tiền vốn và bị lỗ 6 %.

Để tính số tiền bị lỗ, ta phải tính:

- a) $80000 : 6$
b) 80000×6
c) $80000 : 6 \times 100$
d) $80000 \times 6 : 100$

Bài 3: Mua 1 kg đường hết 9000 đồng, bán 1 kg đường được 10800 đồng. Tính tiền lãi so với tiền vốn là bao nhiêu %?

Toán5- Đề 41

Bài 1: Tam giác ABC có diện tích là 27cm^2 , chiều cao AH bằng 4,5cm. Tính cạnh đáy của hình tam giác.

Bài 2: Hình tam giác có diện tích bằng diện tích hình vuông cạnh 12cm. Tính cạnh đáy hình tam giác biết chiều cao 16cm.

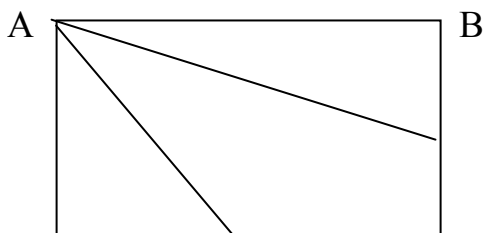
Bài 3: (HSKG)

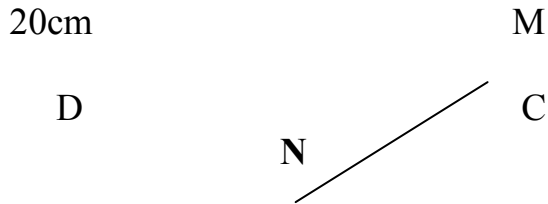
Hình chữ nhật ABCD có:

$AB = 36\text{cm}$; $AD = 20\text{cm}$

$BM = MC$; $DN = NC$. Tính diện tích tam giác AMN?

36cm





Toán5- Đề 42

Bài 1: Xếp các số thập phân theo thứ tự từ bé đến lớn
4,03 ; 4,3 ; 4,299 ; 4,31 ; 4,013

Bài 2: Tính

a) $1,5678 : 2,34 \times 50 - 65$

b) $25,76 - (43 - 400 \times 0,1 - 300 \times 0,01)$

Bài 3: Tính nhanh

$$6,778 \times 99 + 6,778.$$

Bài 4: (HSKG)

Một đám đất hình chữ nhật có chiều dài 60m, chiều rộng bằng 65% chiều dài. Trên đó người ta cấy lúa. Theo năm ngoái, cứ mỗi 100m^2 thu hoạch được 60kg thóc. Năm nay năng suất tăng 5% so với năm ngoái. Hỏi năm nay trên đó người ta thu hoạch được ? tấn thóc